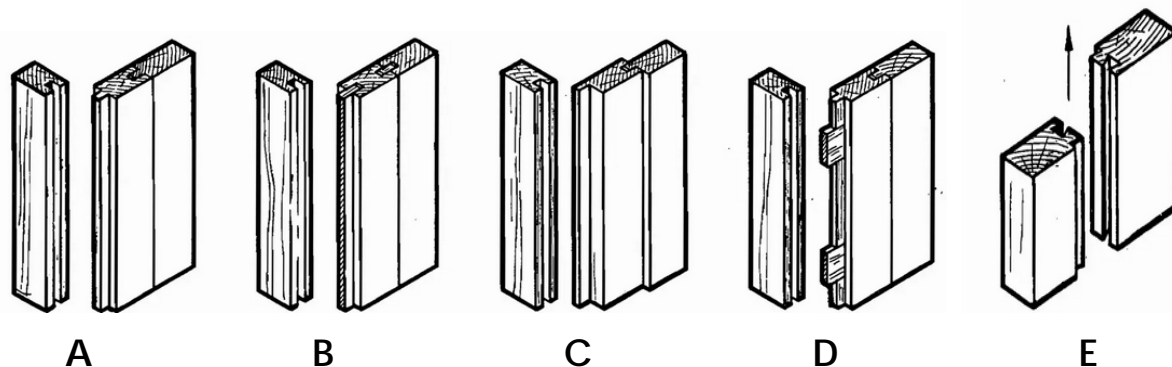


**Convocatoria:** una plaza de Oficial de Carpintería , de la Escala de Administración Especial, Subescala Servicios especiales, Clase Personal de oficios, Grupo C, Subgrupo C2 (código de plaza 219)**Resolución** Presidencial de 14 de diciembre de 2022 (B.O.P. núm. 239, de 16 de diciembre de 2022

1).- Identifica cada tipo de acoplamiento de tablas

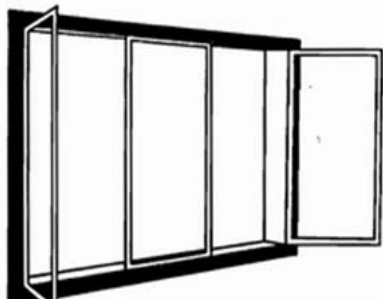


Con ranura y diente o espiga descentrada	
Ranuras y lengüetas a cola de milano	
Por machihembra	
Con juntura de alma	
Por machihembra y espigas postizas	

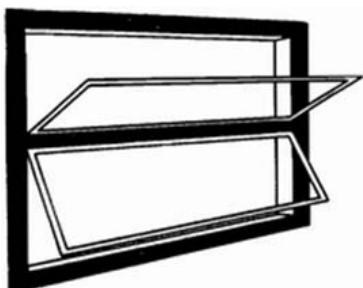
2).- Según las normas de seguridad enumera cuatro equipos de protección individual (EPI) que deben utilizarse en un taller de carpintería.

**Convocatoria:** una plaza de Oficial de Carpintería , de la Escala de Administración Especial, Subescala Servicios especiales, Clase Personal de oficios, Grupo C, Subgrupo C2 (código de plaza 219)**Resolución** Presidencial de 14 de diciembre de 2022 (B.O.P. núm. 239, de 16 de diciembre de 2022

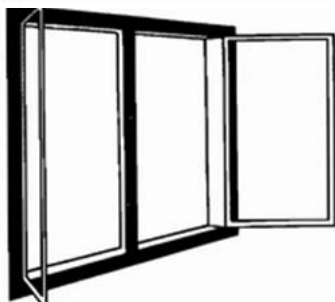
3).- Según los sistemas de accionamiento y disposición de las ventanas, define cada una de ellas



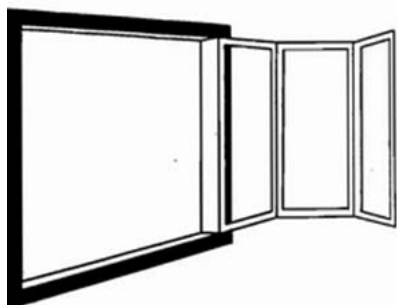
a) \_\_\_\_\_



b) \_\_\_\_\_



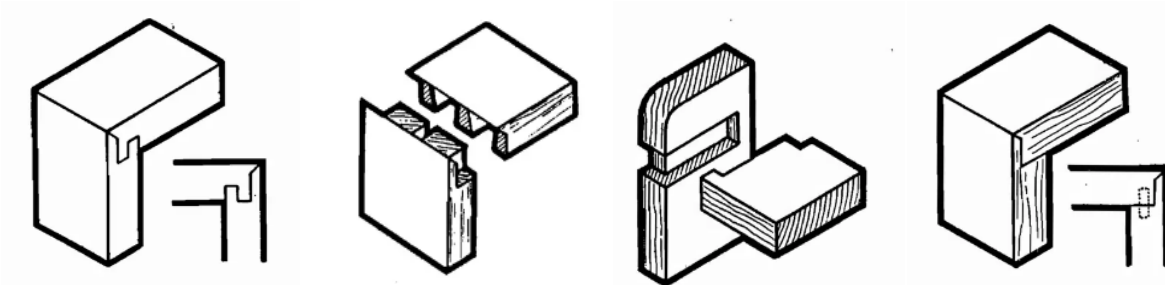
c) \_\_\_\_\_



d) \_\_\_\_\_

**Convocatoria:** una plaza de Oficial de Carpintería , de la Escala de Administración Especial, Subescala Servicios especiales, Clase Personal de oficios, Grupo C, Subgrupo C2 (código de plaza 219)  
**Resolución** Presidencial de 14 de diciembre de 2022 (B.O.P. núm. 239, de 16 de diciembre de 2022)

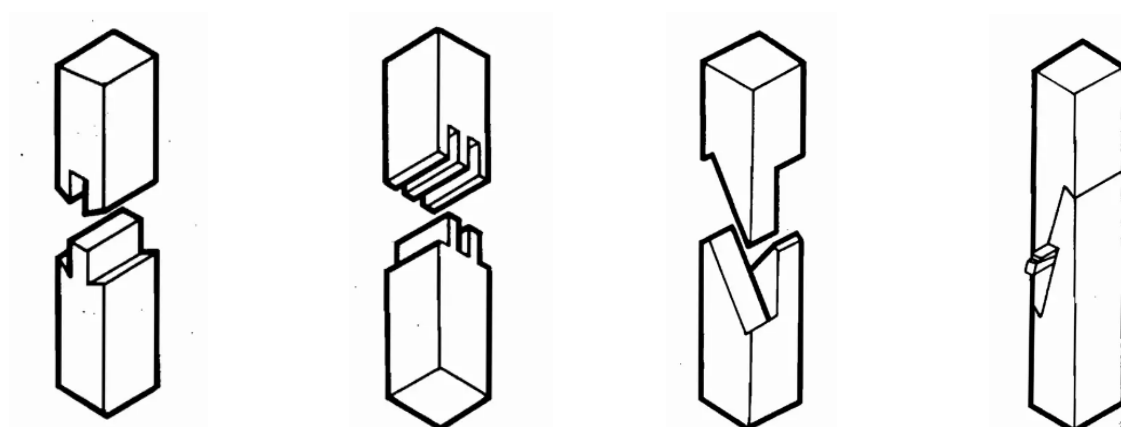
4).- Según el dibujo que se adjunta, dentro de las diferentes formas de unir o ensamblar dos piezas de madera, define a que tipo de ensamble nos estamos refiriendo:



--	--	--	--

<b>A</b>	Unión de dos piezas con ranura oculta	<b>B</b>	Ensamble de dos piezas en ángulo recto, con lengüeta, ranura, rebajo y sesgo
<b>C</b>	Ensamble cola de milano oculta	<b>D</b>	Unión de dos piezas en ángulo recto, con sesgo de 45 grados y rebajo

5).- Según el dibujo que se adjunta, dentro de las diferentes formas de empalmar dos piezas de madera, marca cual corresponde a cada una:



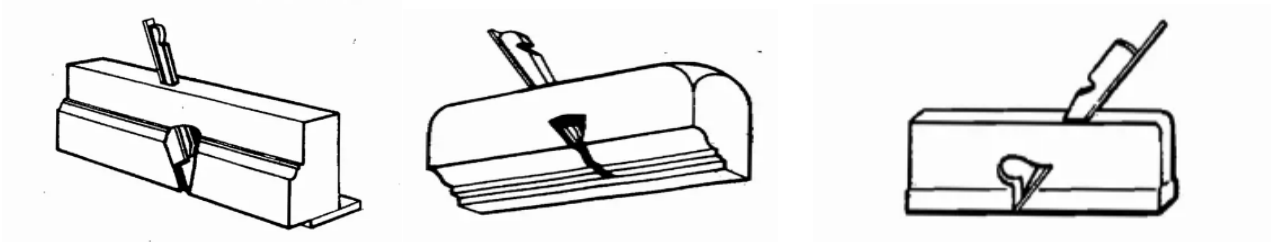
--	--	--	--

<b>A</b>	Empalme a Horquilla	<b>C</b>	Empalme con Horquilla combinada
<b>B</b>	Empalme a doble espiga	<b>D</b>	Empalme de Rayo Júpiter con cuñas


**Convocatoria:** una plaza de Oficial de Carpintería , de la Escala de Administración Especial, Subescala Servicios especiales, Clase Personal de oficios, Grupo C, Subgrupo C2 (código de plaza 219)**Resolución** Presidencial de 14 de diciembre de 2022 (B.O.P. núm. 239, de 16 de diciembre de 2022

6).- Según la siguiente relación de herramientas con hoja de corte guiada, ordena cada una de ellas:

- A) Garlopa
- B) Machihembra
- C) Juntera o Rebajador
- D) Guillame
- E) Cepillo de moldurar



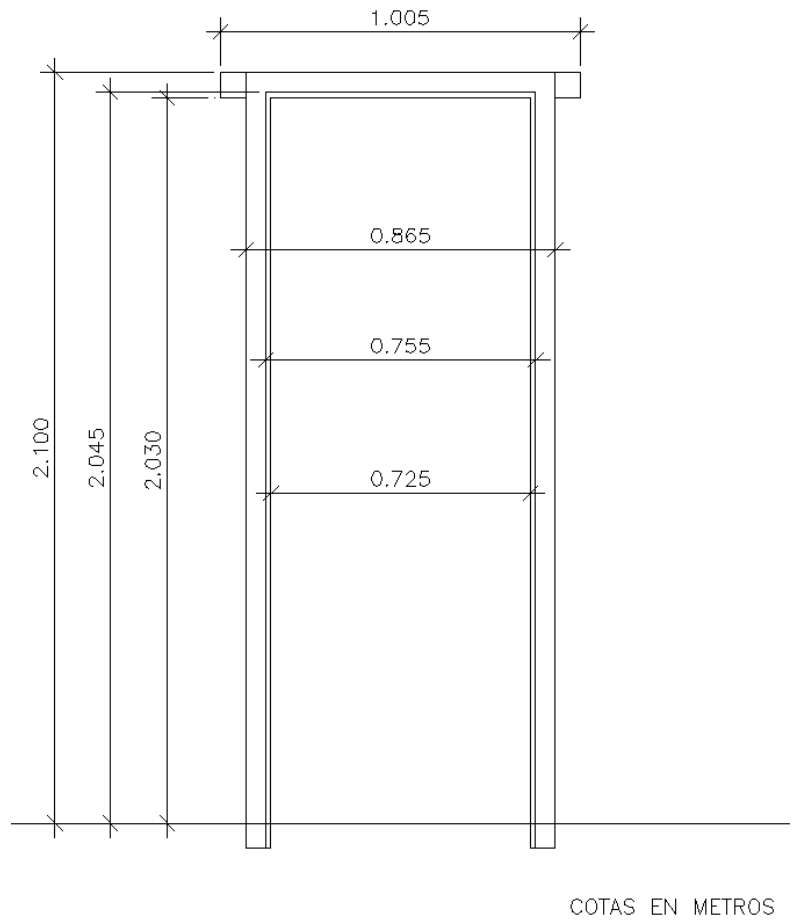
--	--	--



--	--

**Convocatoria:** una plaza de Oficial de Carpintería , de la Escala de Administración Especial, Subescala Servicios especiales, Clase Personal de oficios, Grupo C, Subgrupo C2 (código de plaza 219) **Resolución** Presidencial de 14 de diciembre de 2022 (B.O.P. núm. 239, de 16 de diciembre de 2022

7).- Dado el marco de puerta de la figura siguiente:



COTAS EN METROS

Indicar, calculando si es necesario, las medidas de los siguientes conceptos en metros:

Medida de rebajo (ancho)	
Medida de luz (ancho x alto)	
Largo de cada cogote	
Medida total (ancho x alto)	
Medida de rebajo (alto)	

**Convocatoria:** una plaza de Oficial de Carpintería , de la Escala de Administración Especial, Subescala Servicios especiales, Clase Personal de oficios, Grupo C, Subgrupo C2 (código de plaza 219)**Resolución** Presidencial de 14 de diciembre de 2022 (B.O.P. núm. 239, de 16 de diciembre de 2022

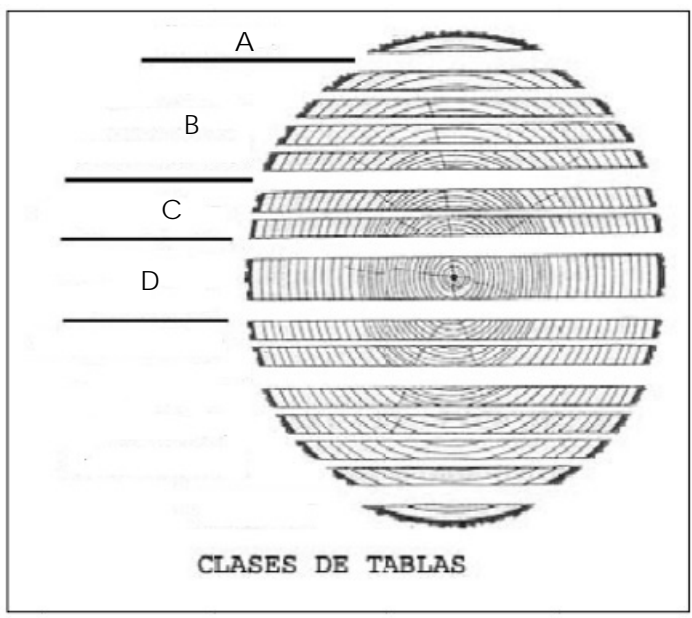
8).- De las piezas de esta ingletadora eléctrica que se señalan, indica la letra en el lugar que corresponde:



A	Motor eléctrico
B	Disco corte circular
C	Índice corte angular
D	Protección del disco desmontable
E	Asa y gatillo de puesta en marcha

**Convocatoria:** una plaza de Oficial de Carpintería , de la Escala de Administración Especial, Subescala Servicios especiales, Clase Personal de oficios, Grupo C, Subgrupo C2 (código de plaza 219)  
**Resolución** Presidencial de 14 de diciembre de 2022 (B.O.P. núm. 239, de 16 de diciembre de 2022)

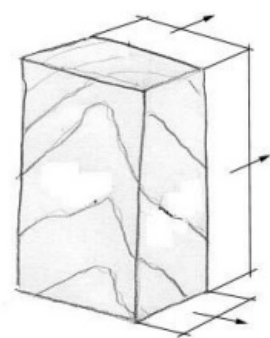
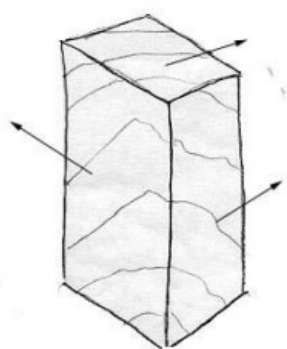
9).- Según su situación en el tronco las tablas y tablones son de distinta clase y se denominan:



INTERMEDIAS	COSTERO	TABLAS EXTERNAS O COSTERAS	CENTRAL O CORAZON

10).- Coloca el nombre de cada superficie y dimensión en el lugar donde corresponda en el dibujo ( se valora superficies 0.50 y dimensiones 0.50):

Canto      Largo      Grueso      Testa      Cara      Ancho



**Convocatoria:** una plaza de Oficial de Carpintería , de la Escala de Administración Especial, Subescala Servicios especiales, Clase Personal de oficios, Grupo C, Subgrupo C2 (código de plaza 219)**Resolución** Presidencial de 14 de diciembre de 2022 (B.O.P. núm. 239, de 16 de diciembre de 2022

## SUPUESTO Nº 1

### Criterios de corrección

- Puntuación total del ejercicio máximo 10 puntos
- Cada pregunta se valora con un máximo de 1 punto
- Se valorarán cada uno de los subapartados de cada pregunta